

20 de julho dia do Amigo!



O LIVRINHO PERDIDO

HISTORINHO ERA UM LIVRINHO TRISTE.



ELE ESTAVA JOGADO NO PARQUE TODO SUJO E AMASSADO.

UM DIA, MILENA VIU HISTORINHO E O LEVOU PARA SUA CASA.

MILENA LIMPOU E CUIDOU DE HISTORINHO COM MUITO CARINHO.

OS DOIS FICARAM AMIGOS E NUNCA MAIS SE SEPARARAM.

✻-----✻

ESTUDANDO O TEXTO


1) RESPONDA:

- QUEM É HISTORINHO?



Dia 26 de julho é o dia dos avós, e para comemorar este dia realize esta atividade junto dos seus avós e descubra os nomes dessas músicas da época de 60. Aproveite para descobrir mais sobre essa cantora com seus avós!

- Celly Campello foi uma cantora famosa dos anos 60. A seguir complete abaixo as 3 músicas mais famosas dela.



1. E _ T _ P _ D _ - C _ P _ D _

2. _ A _ H _ - D _ - L _ A

3. B _ Q _ Í _ I - D _ - B _ L _ N _ A -
 _ M _ R _ L _ N _ A

BIQUÍNI DE BOLINHA AMARELINHA – ESTÚPIDO CUPIDO – BANHO DE LUA

<https://br.pinterest.com/pin/302585668717172653/>



- Escreva os nomes dos times de futebol de acordo com as imagens abaixo:



--	--	--	--



--	--	--	--




--	--	--	--

CHAPECOENSE, FLUMINENSE, CRUZEIRO, BAHIA, CORINTHIANS, SÃO PAULO, VASCO DA GAMA, FLAMENGO, PALMEIRAS, INTERNACIONAL, SANTOS E GRÊMIO.

<https://br.pinterest.com/pin/609815605778236153/>

1- LEVE ATÉ A MÃO DO URSINHO O BALÃO COM A QUANTIDADE DE BOLINHAS CORRESPONDENTE AO NUMERAL INDICADO EM SUA BARRIGA.



1) CONTE E DESCUBRA QUANTOS ANIMAIS HA EM CADA CONJUNTO, DEPOIS, PINTE O NÚMERO CERTO:




1	2	3	4	5
6	7	8	9	10




1	2	3	4	5
6	7	8	9	10



1	2	3	4	5
6	7	8	9	10



1	2	3	4	5
6	7	8	9	10



1	2	3	4	5
6	7	8	9	10



1	2	3	4	5
6	7	8	9	10



1	2	3	4	5
6	7	8	9	10



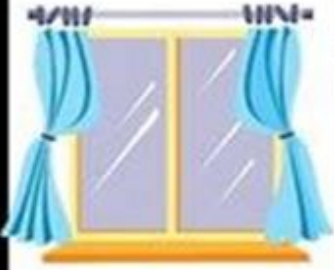
1	2	3	4	5
6	7	8	9	10




1	2	3	4	5
6	7	8	9	10


Referência: <https://br.pinterest.com/pin/111253053284324142/>

Pinte a palavra que corresponde a imagem.

	PANELA
	JANELA
	JACARÉ

	MÉDICO
	TIJOLO
	TELEFONE

	LONA
	BOBO
	LOBO

	GALO
	GATO
	JATO

@CRIARCRECRIARENSINAR

	PERA
	PATO
	BEIRA

	LIMÃO
	LEÃO
	MELÃO

REFERÊNCIA: <https://br.pinterest.com/pin/436497388890767837/>

1- Observe a casinha dos porquinhos e, depois, conte os elementos que aparecem na cena.



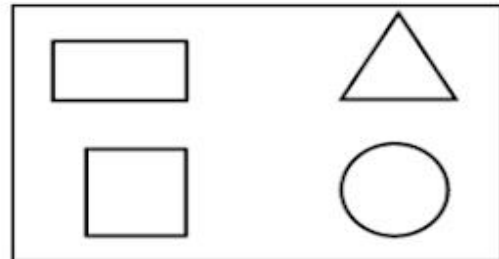

2- Escreva, abaixo, o numeral que corresponde a cada quantidade.



19 De Julho dia Nacional do Futebol.



OBSERVE O TREM ABAIXO E ESCREVA NAS RESPECTIVAS IMAGENS A QUANTIDADE DE FORMAS QUE APARECEM DE CADA UMA.



COMPLETE A TABELA COM OS NÚMEROS QUE ESTÃO FALTANDO.

01		03	04			07			10
11			14	15		17			
	22			25	26		28		

APÓS CONCLUIR A TABELA:

PINTE DE AZUL OS NÚMEROS PARES **PINTE DE AMARELO OS NÚMEROS ÍMPARES**

OBSERVE O VALOR QUE MARIA COMPROU UM CADERNO PARA A ESCOLA



PINTE A ALTERNATIVA QUE MOSTRA O VALOR QUE MARIA GASTOU

- R\$ 6,00
 R\$ 7,00
 R\$ 8,00
 R\$ 5,00

NA SEQUÊNCIA ABAIXO CIRCULE O MENOR NÚMERO E PINTE O MAIOR NÚMERO

25 – 53 – 31 - 18 - 46

NO JOGO DE FUTEBOL CASCÃO FEZ 4 GOLS E CEBOLINHA FEZ 6. QUANTOS GOLS OS DOIS AMIGOS FIZERAM JUNTOS?

Resposta:



BANCO: Retângulo 5, Triângulo 2, Quadrado 2, Triângulo 2, Circulo 10, Maria gastou 8,00 Reais, Menor número 18, Maior 53, 10 Gols