



Amigo **PAPAI NOEL**

O meu nome é _____ e tenho _____ anos de idade.

Este ano:

- portei-me bem? *SIM* *NÃO*
- estudei bastante? *SIM* *NÃO*
- fui bem-educado(a)? *SIM* *NÃO*

Os meus desejos para este natal são:

Eu prometo que te deixo umas bolachinhas na árvore de natal.

Beijinhos e abraços

Feliz Natal

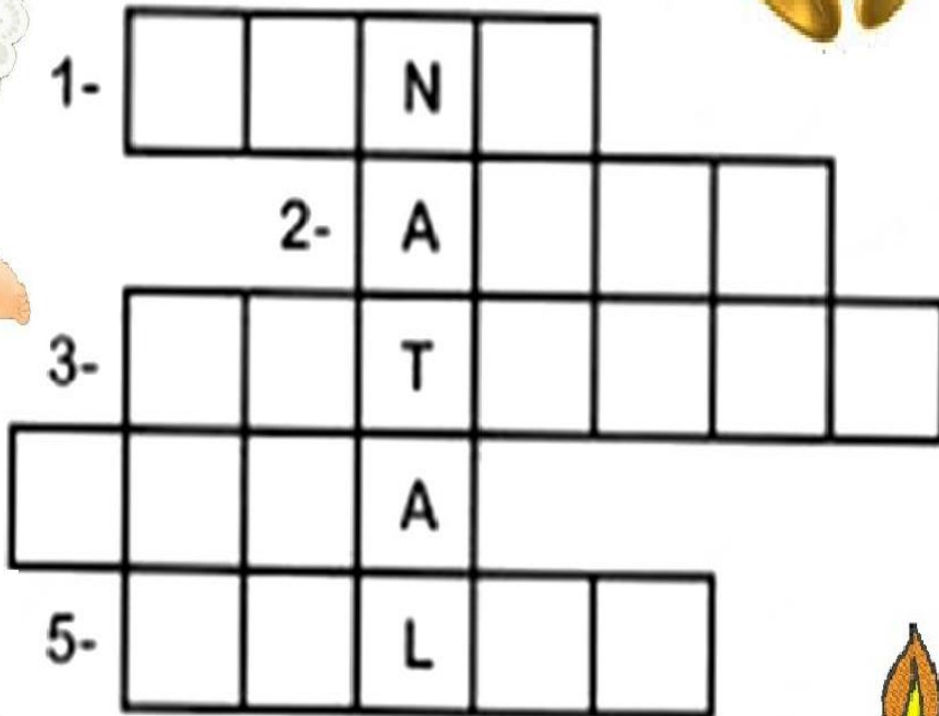


1- ESCREVA NA CRUZADINHA
O NOME DOS ENFEITES.


3- ESTRELA

1- SINO

2- ANJO



5- BOLAS



4- VELA

Caça-Palavras Natalino


Encontre as palavras e escreva-as no seu desenho correto.

B	P	R	E	S	E	N	T	E	M
O	D	V	Q	K	U	B	T	B	E
N	W	V	R	E	N	A	K	L	I
E	Á	T	B	O	P	K	A	Z	A
C	R	E	S	T	R	E	L	A	D
O	V	Q	C	V	I	O	A	Ç	E
D	O	E	N	S	I	N	O	K	N
E	R	W	N	G	H	I	M	O	A
N	E	V	F	G	H	Q	B	U	T
E	A	B	W	Z	X	U	M	O	A
V	P	A	P	A	I	N	O	E	L
E	Q	V	E	L	Ç	N	X	W	E













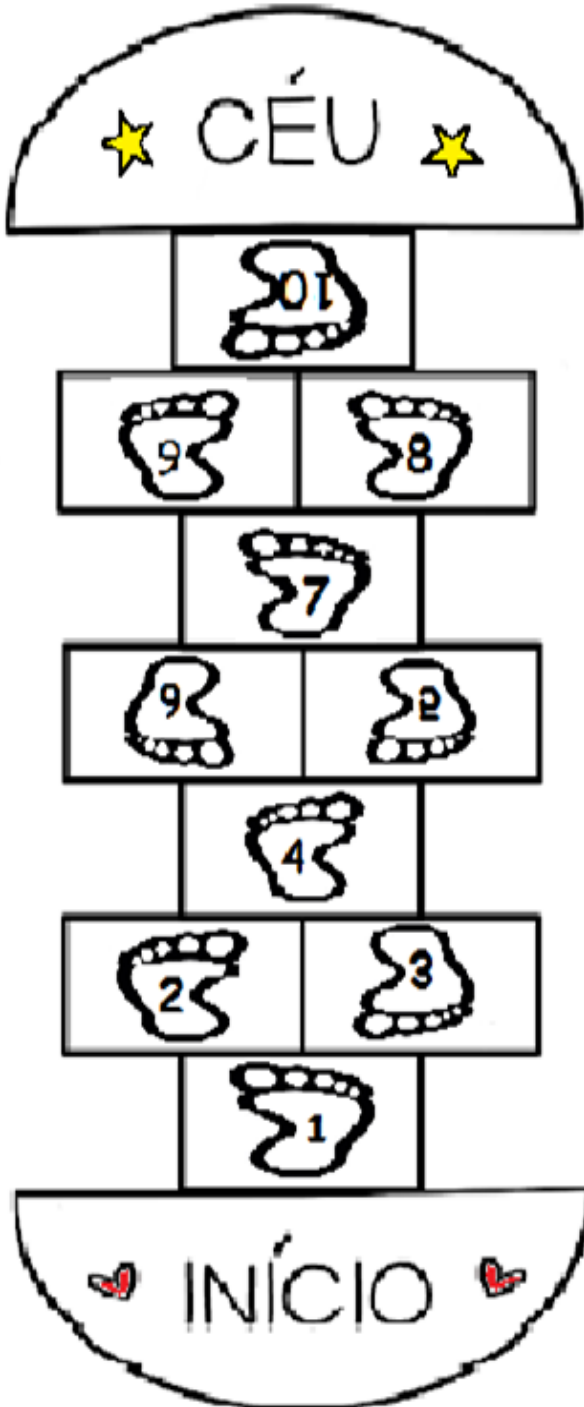






AMARELINHA

1 - Mônica quer pular amarelinha, mas tem algo errado nela. Ajude ela a descobrir quais são os números que estão diferentes e escreva os números nas linhas ao lado. E não deixem de colorir!



2 - Você conhece as regras da amarelinha. Cite 3 regrinhas nas linhas abaixo.



FELIZ NATAL!!

ESCREVA O QUE O NATAL É PARA VOCÊ. E DEIXE A ÁRVORE DA MÔNICA BEM COLORIDA!!

NATAL É...

Blank boxes for writing answers to the prompt "NATAL É...".



O QUE É DEZENA?


Wenidarc Cintra.

O QUE É DEZENA?
VOU AGORA FALAR
CONTE **DEVAGARINHO**
PARA NÃO ERRAR.
CONTE ATÉ DEZ
AGORA, VOCÊ **DEVE PARAR.**

CONTE OS **DEDOS**,
TAMPINHAS E **BOTÕES**.
DESENHE **PIPAS**, **BOLAS**,
LUAS E **BALÕES**,
PICOLÉS, **LÁPIS** E **COLAS**.
VOCÊ VAI APRENDER!
O QUE É DEZENA?
É FÁCIL ENTENDER!!



★ OBSERVE OS DESENHOS DOS SINOS, CONTE SOMENTE ATÉ 10 E CIRCULE:



QUANTOS SINOS SOBRARAM? VOCÊ CONTOU DEZENAS DE SINOS.

AO TODO, SÃO SINOS.

★ DESCUBRA OS NÚMEROS, COMPLETE AS OPERAÇÕES:

EXEMPLO:

$$1 \text{ DEZENA} + 1 \text{ UNIDADE} = 11$$

$$10 + 1 = 11 \text{ UNIDADES}$$

$$1 \text{ DEZENA} + 3 \text{ UNIDADES} =$$
$$10 + 3 = \quad \text{UNIDADES}$$

$$1 \text{ DEZENA} + 5 \text{ UNIDADES} =$$
$$10 + 5 = \quad \text{UNIDADES}$$

$$1 \text{ DEZENA} + 2 \text{ UNIDADES} =$$
$$10 + 2 = \quad \text{UNIDADES}$$

$$1 \text{ DEZENA} + 9 \text{ UNIDADES} =$$
$$10 + 9 = \quad \text{UNIDADES}$$

RELACIONE



Ligue as modalidades com as suas respectivas bolas e na linha abaixo escreva o nome de cada modalidade.




Profª Melina Vasconcelos

Recreação Turma II

Vamos colorir este cartão de natal!

E não se esqueça de deixar uma mensagem de natal para os professores do Amparo Aeluz.




Fonte: <https://i.pinimg.com/736x/ed/f5/e9/edf5e97d738d81594a41fff8b7a0b179.jpg>

Prof^a Melina Vasconcelos

Judô Turma II

Numere a ordem correta do Zempo Kaiten Ukemi



ZEMPÔ-KAITEN-UKEMI (QUEDA COM GIRO FRONTAL)

Deve ser praticado como se o corpo fosse uma “bola elástica”.

Com a perna direita à frente apoiar a mão esquerda na mesma direção da perna, a mão direita será apoiada mais atrás entre a perna direita e o braço esquerdo. Executar o giro frontal impulsionando o corpo com a ponta do pé direito no sentido do ombro direito.